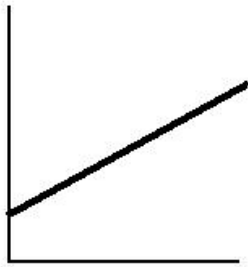



Préquiz #1

Les quatre graphiques ci-dessous illustrent la vitesse vectorielle v en fonction du temps t . Indiquez quel graphique :

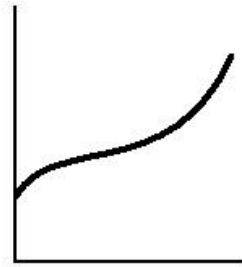
- A. décrit un mouvement à vitesse constante ; **Réponse : 2**
- B. illustre une accélération constante et positive ; **Réponse : 1**
- C. illustre une accélération constante et négative ; **Réponse : 4**
- D. illustre une accélération variable mais toujours positive. **Réponse : 3**



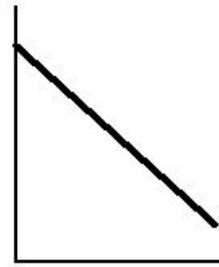
(1)



(2)



(3)



(4)