

PHYSQ 271 LEC A1 : Introduction à la physique moderne
Examen partiel 2
Automne 2014

Nom _____ **SOLUTIONS** _____

Numéro de l'étudiant.e _____

Professeur Marc de Montigny
Date Jeudi 13 novembre 2014, de 14h30 à 15h50

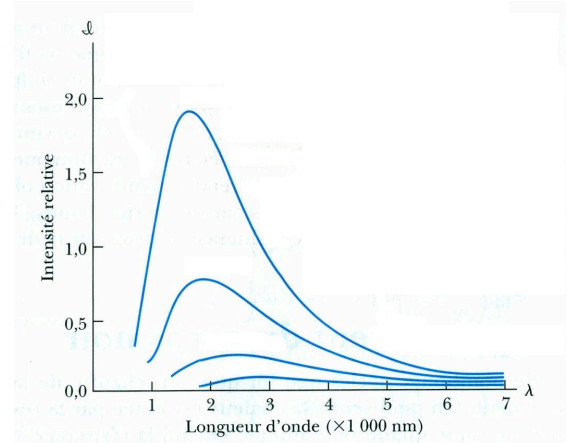
Instructions

- Ce cahier contient **6 pages**. Écrivez-y directement vos réponses.
- L'examen contient **20 points** et vaut **20%** de la note finale du cours.
- L'examen contient **8 questions**. Vous pouvez obtenir une partie des points même si votre réponse finale est erronée.
- L'examen est à livre fermé. Vous pouvez utiliser l'aide-mémoire que vous avez préparé.
- Vous pouvez utiliser le verso des pages pour vos calculs. *Je ne les corrigerai pas*, sauf si vous m'indiquez de le faire.
- Matériel permis: formulaire que vous aurez préparé, crayon ou stylo, calculatrice (programmable et graphique permise). Tout autre appareil électronique ou moyen de communication est interdit. Mettez vos téléphones cellulaires hors circuit.

**Si quelque chose n'est pas clair, n'hésitez pas
à me le demander !**

Question 1. [2.0 points] Corps noir

La figure ci-contre illustre la distribution spectrale de l'intensité émise par un corps noir à des températures égales à 900 K, 1200 K, 1500 K et 1800 K.



- A. Sur la figure, associez chaque courbe à sa température.
- B. Avec la loi de Wien, $f_{\max} = (5.88 \times 10^{10})T$, calculez la valeur de λ_{\max} pour chaque courbe.

Solutions

A. L'intensité augmente avec T . Donc, la plus haute courbe correspond à 1800 K jusqu'à la plus basse, qui correspond à 900 K.

B. $\lambda_{\max} = \frac{c}{f_{\max}} = \frac{3 \times 10^8}{5.88 \times 10^{10} T} = 5.66 \times 10^{-6} \text{ m (900 K)}, 4.25 \times 10^{-6} \text{ m (1200 K)}, 3.40 \times 10^{-6} \text{ m (1500 K)} \text{ et } 2.83 \times 10^{-6} \text{ m (1800 K)}$. (On acceptera aussi la relation $\lambda_{\max} T = 2.989 \times 10^{-3} \text{ m K}$, qui donne respectivement $3.32 \times 10^{-6} \text{ m (900 K)}, 2.49 \times 10^{-6} \text{ m (1200 K)}, 1.99 \times 10^{-6} \text{ m (1500 K)} \text{ et } 1.66 \times 10^{-6} \text{ m (1800 K)}$.)

Question 2. [3.0 points] Effet photoélectrique

On envoie de la lumière de 400 nm sur du lithium, dont le potentiel d'arrêt vaut 2.93 eV. « potentiel d'arrêt » devrait se lire « travail d'extraction »

- A. Quelle est l'énergie des photons en eV ?
- B. Quel est le potentiel d'arrêt ? vos points ont été accordés
- C. Quelle est la vitesse maximale des photoélectrons émis ?
- D. Quelle est la longueur d'onde maximale nécessaire, en nm, pour émettre des photoélectrons en éclairant du lithium ?

Solutions

- A. $E = \frac{hc}{\lambda} = \frac{1240 \text{ eV nm}}{400 \text{ nm}} = 3.10 \text{ eV}$
- B. $eV_0 = E - \phi = 3.10 - 2.93 = 0.17 \text{ eV}$. Le potentiel d'arrêt vaut donc 0.17 V
- C. $v = \sqrt{\frac{2K}{m}} = \sqrt{\frac{2(0.17 \times 1.6 \times 10^{-19})}{9.11 \times 10^{-31}}} = 2.44 \times 10^5 \text{ m/s}$
- D. $E = \frac{hc}{\lambda} = \phi$ donne $\lambda = \frac{hc}{\phi} = \frac{1240}{2.93} = 423 \text{ nm}$

Question 3. [2.0 points] Effet Compton

Un photon de longueur d'onde 0.0398 nm frappe un électron au repos et voit sa longueur d'onde changée de 3.50×10^{-4} nm.

- A. La longueur finale est-elle plus grande ou plus petite que la longueur d'onde initiale ? Expliquez brièvement.
- B. La lumière a été défléchie de quel angle ?
- C. Combien d'énergie, en eV, l'électron aura-t-il gagné ?

Solutions

- A. Plus grande, car le photon perd de l'énergie suite à la collision.
- B. $\Delta\lambda = \frac{hc}{mc^2}(1 - \cos\theta)$ donne $\cos\theta = 1 - \frac{mc^2}{hc}\Delta\lambda = 1 - \frac{511000}{1240}(3.50 \times 10^{-4}) = 0.856$, qui donne une déviation de 31.2° .
- C. $\Delta E = \frac{hc}{\lambda} - \frac{hc}{\lambda'} = hc\left(\frac{1}{\lambda} - \frac{1}{\lambda'}\right) = 1240\left(\frac{1}{0.0398} - \frac{1}{0.04015}\right) = 272 \text{ eV}$

Question 4. [3.0 points] Atomes hydrogénoïdes

Un électron se trouve dans un atome de sodium Na^{10+} dix fois ionisé (c.-à-d. on a retiré 10 électrons de l'atome neutre et on n'y a laissé qu'un seul électron).

- A. Quelles sont les énergies des niveaux $n = 2$ et 5 ?
- B. Quel est le moment cinétique pour l'orbite $n = 2$?
- C. Quel est le rayon de l'orbite $n = 2$?
- D. Quelle est la longueur d'onde, en nm, de la lumière émise pendant la transition de $n = 5$ à $n = 2$?

Solutions

- A. On prend $Z = 11$. $E_n = -\frac{13.6Z^2}{n^2}$ donne $E_2 = -411 \text{ eV}$, $E_5 = -65.8 \text{ eV}$
- B. $L_2 = 2\hbar = 1.32 \times 10^{-15} \text{ eV} \cdot \text{s}$
- C. $r_n = \frac{n^2 a_0}{Z} = \frac{2^2 \cdot 0.0529}{11} = 0.0192 \text{ nm}$
- D. $\lambda = \frac{hc}{\Delta E} = \frac{1240}{411 - 65.8} = 3.59 \text{ nm}$

Question 5. [2.0 points] Spectre de rayons X

La série L_γ de Moseley pour les rayons X correspond à la transition du niveau $n = 5$ au niveau $n = 2$. Si l'élément est le chlore, dont $Z = 17$, calculez

- A. l'énergie et
B. la longueur d'onde
du rayon X émis. Prenez $\delta = 1$.

Solutions

A. $E = 13.6(Z - \delta)^2 \left(\frac{1}{n^2} - \frac{1}{n'^2} \right) = (13.6)(17 - 1)^2 \left(\frac{1}{2^2} - \frac{1}{5^2} \right) = 731 \text{ eV}$

B. $\lambda = \frac{hc}{E} = 1.70 \text{ nm}$

Question 6. [2.0 points] Principe de Heisenberg

En trois dimensions, la relation de Heisenberg $\Delta p_x \Delta x \geq \frac{\hbar}{2}$ est aussi valide pour les coordonnées y et z . Supposez qu'on mesure la vitesse d'un électron comme étant : $v_x = (4.00 \pm 0.18) \times 10^5 \text{ m/s}$, $v_y = (0.34 \pm 0.12) \times 10^5 \text{ m/s}$, et $v_z = (1.41 \pm 0.08) \times 10^5 \text{ m/s}$. Quel est le volume minimal dans lequel se trouve l'électron pendant cette mesure?

Solution

Avec $\Delta x_{\min} = \frac{\hbar}{2 \Delta p_x} = \frac{h}{4\pi \Delta p_x} = \frac{h}{4\pi m \Delta v_x}$, on trouve

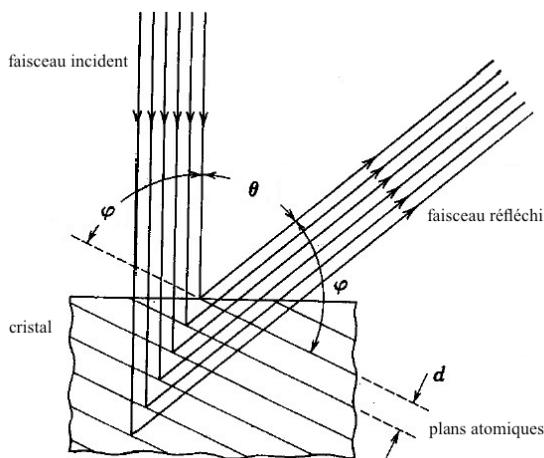
$$\Delta V_{\min} = \Delta x_{\min} \Delta y_{\min} \Delta z_{\min} = \frac{h}{4\pi m \Delta v_x} \frac{h}{4\pi m \Delta v_y} \frac{h}{4\pi m \Delta v_z} = \left(\frac{h}{4\pi m} \right)^3 \frac{1}{\Delta v_x \Delta v_y \Delta v_z}$$

$$\Delta V_{\min} = \left(\frac{6.626 \times 10^{-34}}{4\pi(9.11 \times 10^{-31})} \right)^3 \frac{1}{(0.18)(0.12)(0.08)10^{15}} = 1.1 \times 10^{-25} \text{ m}^3$$

[Autre réponse acceptée : $1.4 \times 10^{-26} \text{ m}^3$ qui est $\frac{\Delta V_{\min}}{8}$, obtenue en doublant chaque Δv]

Question 7. [3.0 points] Expérience de Davisson-Germer

Dans l'expérience de Davisson-Germer, des particules sont accélérées par un potentiel V_0 et se dirigent vers un cristal à un angle φ par rapport aux plans atomiques. La nature ondulatoire des particules fait qu'on observera des maxima à certains angles, selon la loi de Bragg.



- Si des électrons sont accélérés par un potentiel de 54 V et qu'on obtient un premier maximum à $\varphi = 66^\circ$, quelle est la distance d entre les plans atomiques?
- Si on dirige des électrons accélérés par 60 V vers le même cristal, à quel angle observera-t-on le premier maximum?
- Toujours avec 60 V, observera-t-on d'autres maxima?
- Si on remplace les électrons par des protons, avec $V_0 = 60$ V, à quel angle φ se trouvera le premier maximum?
- Avec des protons accélérés par 60 V, observera-t-on d'autres maxima? Environ combien?

Solutions

A. $2d \sin \varphi = n\lambda = n \frac{h}{p}$ et $K = eV_0 = \frac{p^2}{2m}$ donnent $2d \sin \varphi = n \frac{hc}{\sqrt{2mc^2 eV_0}}$, d'où

$$d = \frac{n}{2 \sin \varphi} \frac{hc}{\sqrt{2mc^2 eV_0}} = \frac{(1)}{2 \sin 66^\circ} \frac{1240}{\sqrt{2(5.11 \times 10^5)(54)}} = 0.091 \text{ nm}$$

B. $\sin \varphi = \frac{n}{2d} \frac{hc}{\sqrt{2mc^2 eV_0}} = \frac{(1)}{2(0.091)} \frac{1240}{\sqrt{2(5.11 \times 10^5)(60)}} = 0.87$ qui donne $\varphi = 60^\circ$.

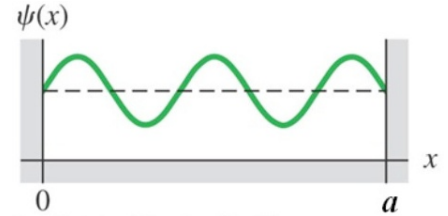
C. **Non**, car déjà avec $n > 1$, on a $\sin \varphi > 1$.

D. $\sin \varphi = \frac{n}{2d} \frac{hc}{\sqrt{2mc^2 eV_0}} = \frac{(1)}{2(0.091)} \frac{1240}{\sqrt{2(9.38 \times 10^8)(60)}} = 0.0203$ donne $\varphi = 1.2^\circ$.

E. **Oui**, car $n \sin \varphi = n(0.0203) < 1$ jusqu'à $n = 49$. On aurait **48 autres maxima**.

Question 8. [3.0 points] Particule dans un puit infini

La fonction d'onde d'un électron dans un puit infini de longueur 1.25 nm est donnée ci-dessous.



- A. Quelle est l'énergie de ce niveau, en eV ?
- B. Quelle est le pourcentage de probabilité que l'électron se trouve entre $x = 0.75$ nm et 1.00 nm ?
- C. Quelle est la quantité de mouvement de l'électron en eV/c ?
- D. Quelle est la longueur d'onde d'un photon émis lors de la transition de ce niveau au niveau $n = 1$?
- E. Dans quelle région du spectre se trouve ce photon ?

Solutions

A. On a $n = 5$. $E_n = \frac{(hc)^2 n^2}{8mc^2 a^2} = \frac{(1240)^2 5^2}{8(5.11 \times 10^5)(1.25)^2} = 6.02 \text{ eV}$

B. Pas besoin de calculer d'intégrale, on voit que 1/5 de l'aire est dans cette région. On a donc **20%**.

C. $p = \frac{nhc}{2ac} = \frac{(5)(1240)}{2(1.25)c} = 2480 \text{ eV}/c$

D. $\Delta E = E_5 - E_1 = 6.02 - \frac{6.02}{25} = 5.78 \text{ eV}$. Donc $\lambda = \frac{hc}{\Delta E} = \frac{1240}{5.78} = 215 \text{ nm}$

E. **Ultraviolet**